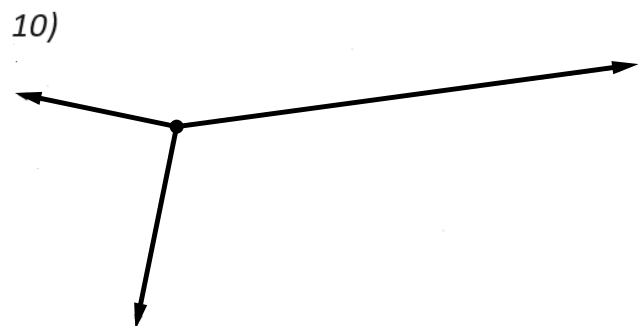

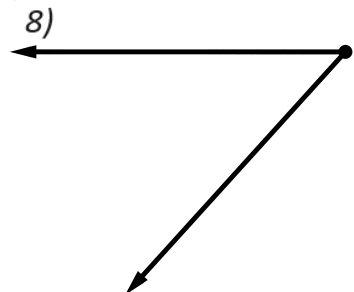
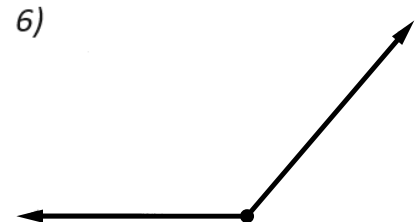
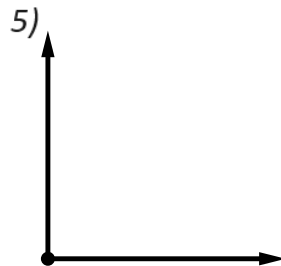
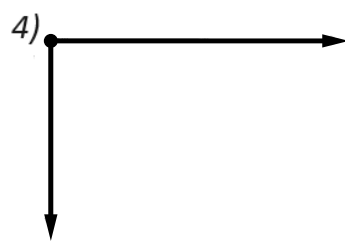
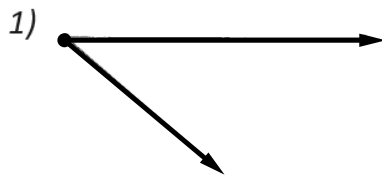


Aufgaben: Kraft als gerichtete Größe (Teil 3)

Aufgabe.

- a) Berechnen Sie in den folgenden Aufgaben die resultierende Kraft.
- b) Konstruieren Sie die resultierende Kraft.
- c) Vergleichen Sie die Ergebnisse aus a) und b) (Maßstab: $1\text{ mm} = 100\text{ N}$).



Adresse: Eduard-Spranger-Berufskolleg, 59067 Hamm

E-Mail: mail@frank-klinker.de

Version: 16. Januar 2024